



لحم دای ایران



لحم ایران

لکو کیو (مزرعه فکر)

لیگ سه

هفتمین جشنواره

" لکو کاپ هماهنگ استانی "

شهریور ۱۴۰۱

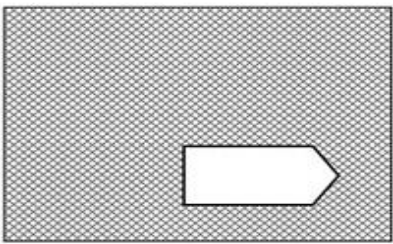






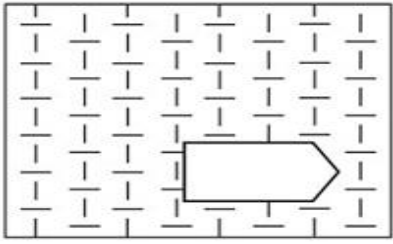





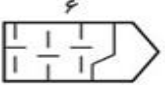
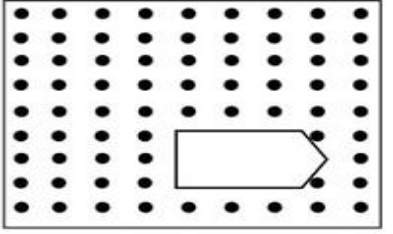



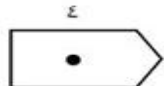
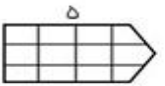

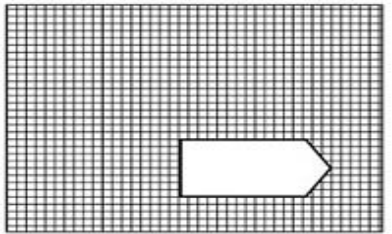
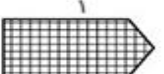
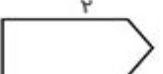
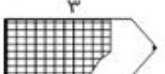



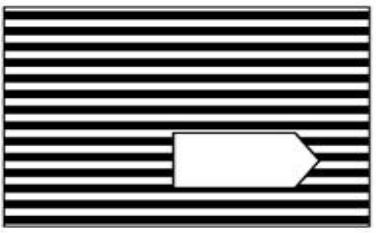






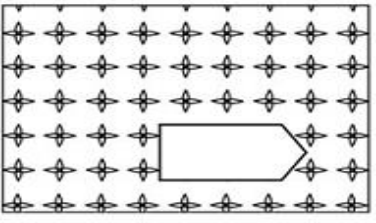
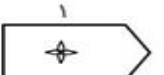

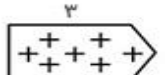
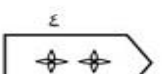
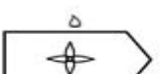

زمان پاسخگویی: ۲۵ دقیقه

نام و نام خانوادگی: .....

شهر: .....

پایه تحصیلی: .....

• الگوی مناسب را تعیین کنید.

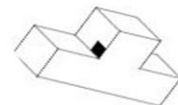
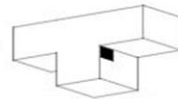
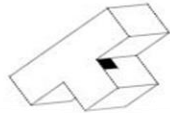
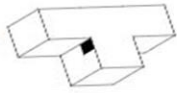
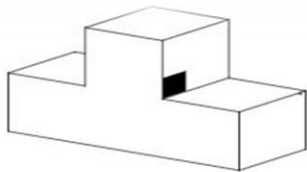
 <p>1 </p> <p>2 </p> <p>3 </p> <p>4 </p> <p>5 </p> <p>6 </p>	 <p>1 </p> <p>2 </p> <p>3 </p> <p>4 </p> <p>5 </p> <p>6 </p>
 <p>1 </p> <p>2 </p> <p>3 </p> <p>4 </p> <p>5 </p> <p>6 </p>	 <p>1 </p> <p>2 </p> <p>3 </p> <p>4 </p> <p>5 </p> <p>6 </p>
 <p>1 </p> <p>2 </p> <p>3 </p> <p>4 </p> <p>5 </p> <p>6 </p>	 <p>1 </p> <p>2 </p> <p>3 </p> <p>4 </p> <p>5 </p> <p>6 </p>

• سلسله کلمات

برای هر ردیف باید تمام کلمات از همان موضوع باشند و اول کلمه بعدی آخر کلمه قبل باشد.

موضوع	کلمه شروع	کلمه اول	کلمه دوم	کلمه سوم	کلمه چهارم
حیوان	شیر				
اسم پسر	حسین				
کلمه	انسان				

• دوران یافته شکل روبرو کدام یک از گزینه های زیر میباشد:



• در دو سوال زیر شکل بالا از ترکیب کدام گزینه به وجود آمده:



زمینی است به صورت لوزی که اندازه قطر بزرگ آن ۲۰۰ متر است و اندازه قطر کوچک آن ۹۰ متر می باشد.

\* مساحت این زمین چند هکتار است؟

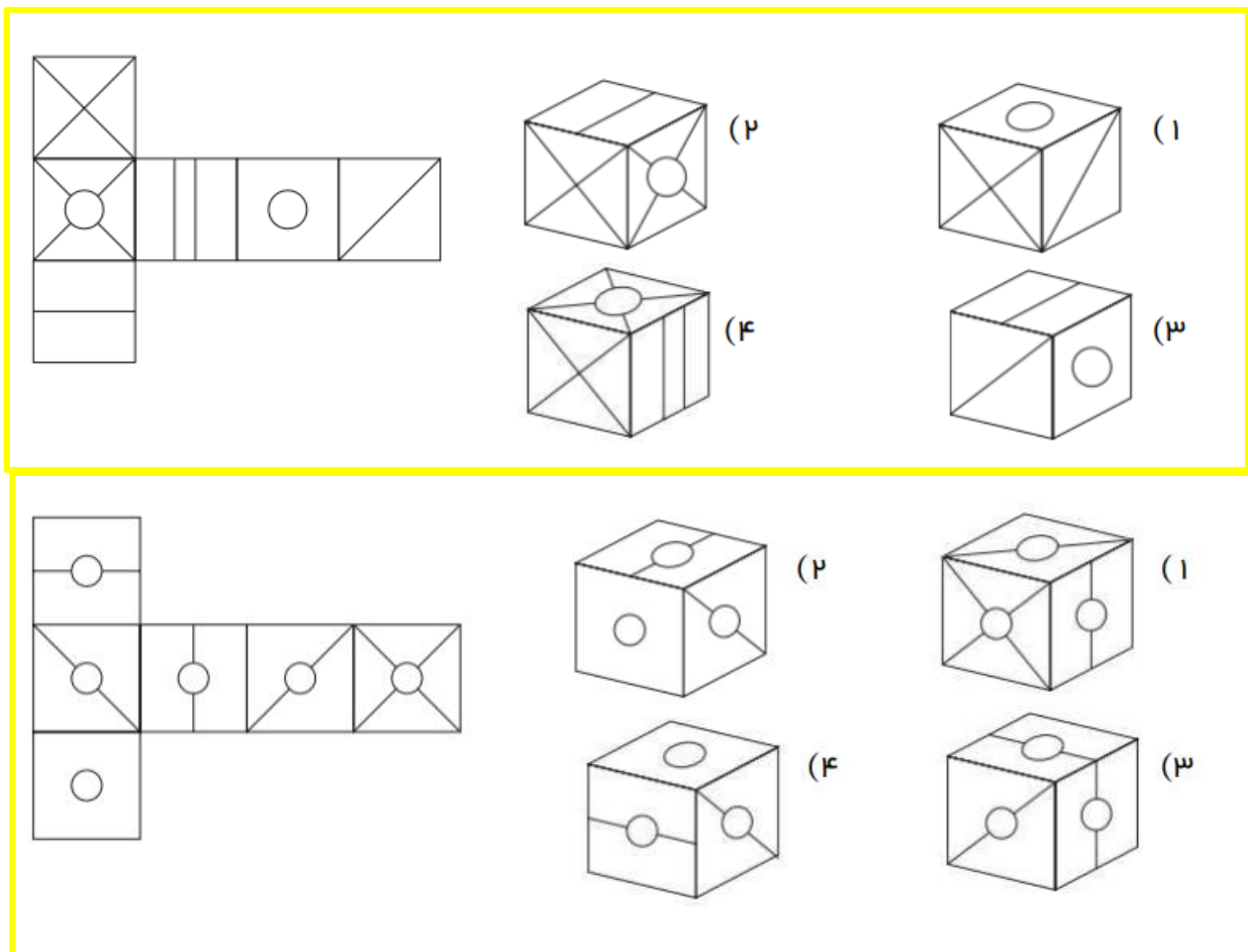
● ۹۴

● ۱۰۸

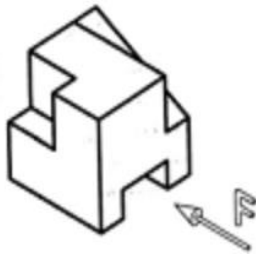
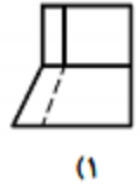
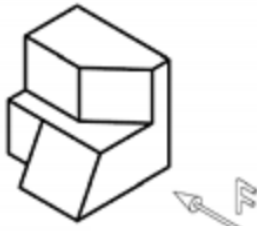
● ۵۴

● ۲۷

حدس مکعب ( اگر شکل سمت چپ را تا بزیم کدام گزینه به وجود می آید )



• دید رو برو ( خط چین های مقطع نشان برش در قسمت پشتی طرح می باشد )

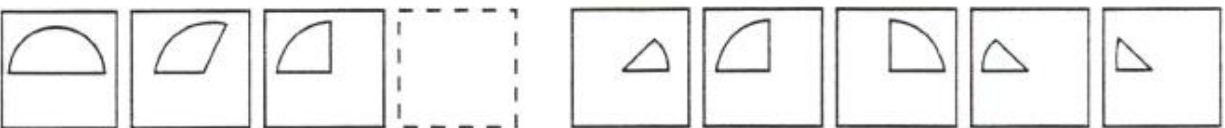

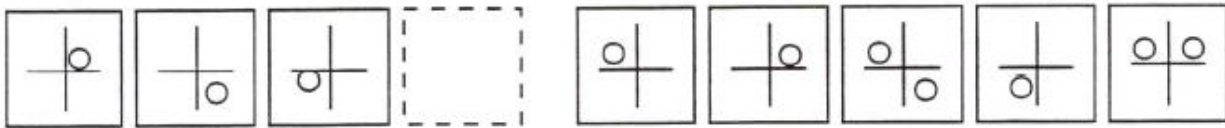
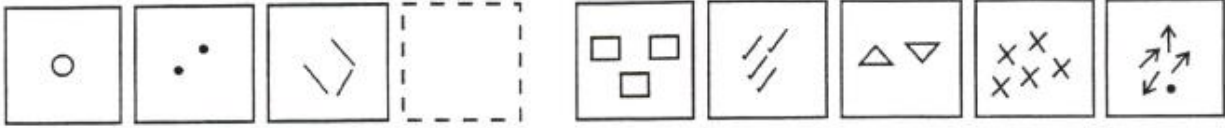


• دنباله اعداد

( با توجه به روابط اعداد دنباله ها را کامل کنید )

→	۱	۲	۳			۶				۱۰	۱۱		
→	۲	۴	۶			۱۲		۱۶	۱۸		۲۲		
→	۱		۵	۷		۱۱		۱۵		۱۹		۲۳	۲۵
→	۱	۷	۱۳	۱۹	۲۵		۳۷	۴۳		۵۵		۶۷	۷۳
→	۱	۱۲	۲۳		۴۵		۶۷		۸۹			۱۲۲	
→	۰	۱	۱	۲	۳	۵		۱۳		۳۴		۸۹	
→	۹	۱۸	۲۷		۴۵		۶۳		۸۱		۹۹		۱۱۷
→	۹	۶	۱۱		۱۳	۱۰		۱۲	۱۷		۱۹	۱۶	

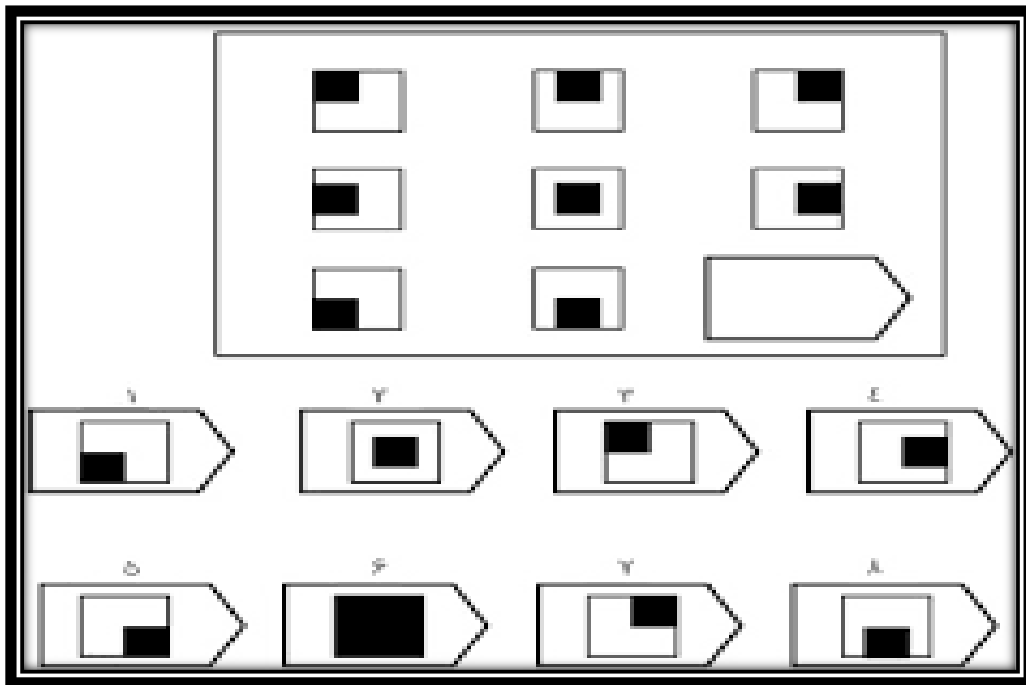
منطق اشکال (از بین گزینه های سمت راست شکل خالی را پر کنید)



• در کدامیک از گزینه های زیر واژه ها دارای ترتیب الفبایی درست هستند؟

- ارس\_ ارومیه\_ اروپا
- فرسوده\_ فراوان\_ فرومایه
- ناراست\_ نارو\_ ناروا
- گلستان\_ گلشن\_ گلدان

• گزینه مناسب برای جاهای خالی انتخاب کنید.





# بخش دوم

## سوالات بخش عملی




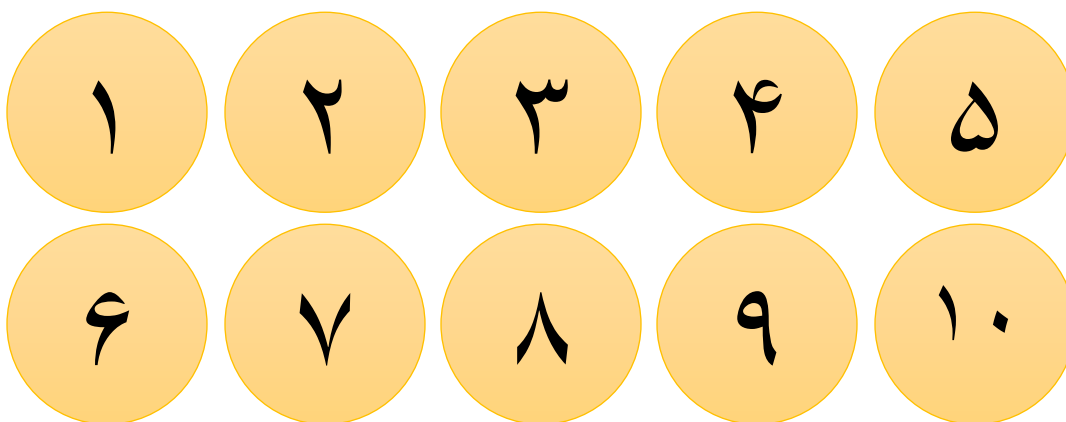
• اعداد مرتب

(مهره های داده شده را طوری در جای خود بچینید که هیچ دو عدد متوالی همسایه هم نباشند)





• مثلث طلایی

(مهره های داده شده را طوری در شکل قرار دهید تا جمع ارقام قرار گرفته در هر ضلع برابر باشد)



• ارزش سلولی

(مهره های داده شده را در خانه های شطرنجی طوری قرار دهید که عدد قرار گرفته در کنار هم سطر و ستون پوشش داده شود.)



••					
••					
•					
•••					
••					